

Les heures entières matin/soir

1. Ho, les chiffres du réveil de Théo ont disparu! Ajoute-les.



Mais ce sont les heures jusque midi ... et le soir ?



2. Complète le tableau de correspondance des heures.

+ ↓	Avant midi	00 h
	Après midi	15 h

3. Quelle opération permet de trouver les heures de l'après-midi au départ de celles du matin?

4. Pourquoi n'est-il jamais affiché « 24 » sur un réveil matin?

5. Complète les phrases en observant les réveils.

Attention, utilise ce qui convient le mieux... Soit l'heure du **matin**, soit l'heure de l'**après-midi**.



Maman

Papa

Ma sœur

Le chat

Maman se lève à heures.
 Papa se lève à heures.
 Ma sœur se lève à heures.
 Le chat se réveille à heures.



Maman

Papa

Ma sœur

Le chat

Maman se couche à heures.
 Papa va au lit à heures.
 Ma sœur va dormir à heures.
 Le chat se couche à heure.

6. Colorie l'horloge qui convient à chaque situation.

À 8 heures, on part à l'école. →



← À 12 heures, il est midi.

À 17 heures, je regarde la télévision. →



7. Colorie de la même couleur les **paires** d'heures matin /après-midi.



8. Allo... l'horloge parlante ? Règle les montres de Théo et Giulia.
















L'horloge parlante dit : « Au 3 ^e top, il sera ... »	Théo règle sa montre numérique. Écris les chiffres.	Giulia règle sa montre analogique. Trace les aiguilles.
... onze heures. 		
... treize heures. 		
... minuit. 		

9. Une petite pause ... avant l'exercice 10... si tu me coloriais...
Mais attention **ma moustache est rouge et bleue** car mon aiguille des heures est **rouge**.



10. Complète les horloges.

Elles doivent toutes avoir leurs deux aiguilles, l'heure indiquée le matin et l'après-midi.

 <p>Il est 5 h. Il est 17 h.</p>	 <p>Il est 7 h. _____</p>	 <p>_____</p>	 <p>Il est 20 h. _____</p>	 <p>_____</p>
 <p>_____</p>	 <p>Il est 8 h. _____</p>	 <p>_____</p>	 <p>Il est 21 h. _____</p>	 <p>_____</p>
 <p>_____</p>	 <p>Il est 10 h. _____</p>	 <p>_____</p>	 <p>Il est 11 h. _____</p>	 <p>_____</p>

